

## **ESQUEMA DE LA UNIDAD 4**

### **LA POBLACIÓN MUNDIAL**

#### **1. La población en el mundo**

- La población
- La densidad de población

#### **2. El crecimiento natural de la población**

- Natalidad
- Mortalidad
- Esperanza de vida

#### **3. Los movimientos migratorios**

- Migraciones

#### **4. El estudio de la población**

- Sexo
- Edad
- Profesión:
  - ➔ Población activa:
    - ➔ Sector Primario
    - ➔ Sector Secundario
    - ➔ Sector Terciario
  - ➔ Población inactiva:
    - ➔ Estudiantes
    - ➔ Jubilados

## UNIDAD 4 LA POBLACIÓN MUNDIAL



### 1. LA POBLACIÓN EN EL MUNDO

La **población** es el número de habitantes que viven en un lugar.



La **población** se distribuye por el territorio de forma muy desigual. La mayor parte de la población mundial (90%) se concentra en el Hemisferio Norte.

La **densidad de población** es el número de habitantes que hay por kilómetro cuadrado.

### Actividades

1. La población es el número de \_\_\_\_\_ que \_\_\_\_\_ en un lugar.

2. La mayor parte de la \_\_\_\_\_ se concentra en el \_\_\_\_\_.

3. ¿Cómo se distribuye la población en el mundo?

---

---

---

## 2. EL CRECIMIENTO NATURAL DE LA POBLACIÓN.

La **natalidad** es el número de niños y niñas que nacen en un lugar.



La **mortalidad** es el número de personas que mueren en un lugar.



La **esperanza de vida** es el número de años que puede esperar vivir una persona que acaba de nacer.

## **Actividades**

1. Escribe cada palabra en su lugar: mortalidad, natalidad y esperanza de vida.

-Número de niños y niñas que nacen en un lugar:

\_\_\_\_\_

-Número de años que puede esperar vivir una persona que acaba de nacer \_\_\_\_\_

-Número de personas que mueren en un lugar

\_\_\_\_\_

2. ¿Qué es la natalidad?

\_\_\_\_\_

\_\_\_\_\_

3. ¿Qué es la mortalidad?

\_\_\_\_\_

\_\_\_\_\_

4. ¿Por qué crees que aumenta la esperanza de vida?

\_\_\_\_\_

\_\_\_\_\_

5. Completa estas frases:

La natalidad es el número de \_\_\_\_\_ que nacen en un lugar.

La mortalidad es el número de \_\_\_\_\_ que mueren en un lugar.

La esperanza de vida es el número de \_\_\_\_\_ que espera vivir una persona que acaba de nacer.

En los países **ricos** (desarrollados):

- Nacen pocos niños
- La mujer trabaja fuera de la casa
- Los niños van al colegio

En los países **pobres** (subdesarrollados):

- Nacen muchos niños
- La mujer no trabaja fuera de la casa
- Los niños trabajan desde pequeños y no van al colegio
- Las personas pasan hambre

## Actividades

1. Completa estas frases:

En los países ricos nacen \_\_\_\_\_  
niños.

La mujer trabaja en los países \_\_\_\_\_

En los países pobres nacen \_\_\_\_\_  
niños.

Las mujeres no trabajan en los países \_\_\_\_\_

Los niños \_\_\_\_\_ trabajan y no van al  
colegio.

2. ¿Cuántos niños nacen en los países ricos?

---

---

3. ¿Y en los países pobres?

---

---

4. ¿Los niños de los países ricos van al colegio?

---

---

5. ¿Y en los países pobres los niños trabajan?

---

---

¿Qué piensas de esto?

---

---

---

### **3. LOS MOVIMIENTOS MIGRATORIOS.**

Las migraciones son los movimientos de las personas de unos países a otros. Llamamos emigrantes a las personas que van a vivir de un lugar a otro.

## Actividades

1. ¿Qué son las migraciones?

---

---

---

2. ¿A nuestro país llegan emigrantes?

---

---

---

3. ¿Por qué crees que se va la gente de su país?

---

---

---

4. Mira las fotos del libro de la pág. 80. ¿Qué está pasando?

---

---

---

5. Localiza en el mapa del mundo los movimientos migratorios.



## 4. EL ESTUDIO DE LA POBLACIÓN

La población de cada territorio varía debido a:

- El sexo
- La edad
- Profesión

1. El **sexo**: el número de hombres no es igual al número de mujeres en ningún grupo humano.

2. Hay tres grupos de **edades**: los **jóvenes**, los **adultos** y los **ancianos**.

3. En cuanto a la profesión la población de un país se divide en:

- **Población activa**: es la que está en edad de trabajar.

Ejemplos:



Cocinero



Granjero

- **Población inactiva**: está formada por jubilados y estudiantes.



Jubilada



Estudiante

La población activa puede trabajar en tres sectores:


- **Primario:** agricultura, ganadería, pesca y minería.

Agricultura:




Agricultor

Ganadería:



Cerdo



Vaca

- **Secundario:** industria y construcción.



- **Terciario (servicios):** sanidad, educación, comercio, seguridad ...



Policía

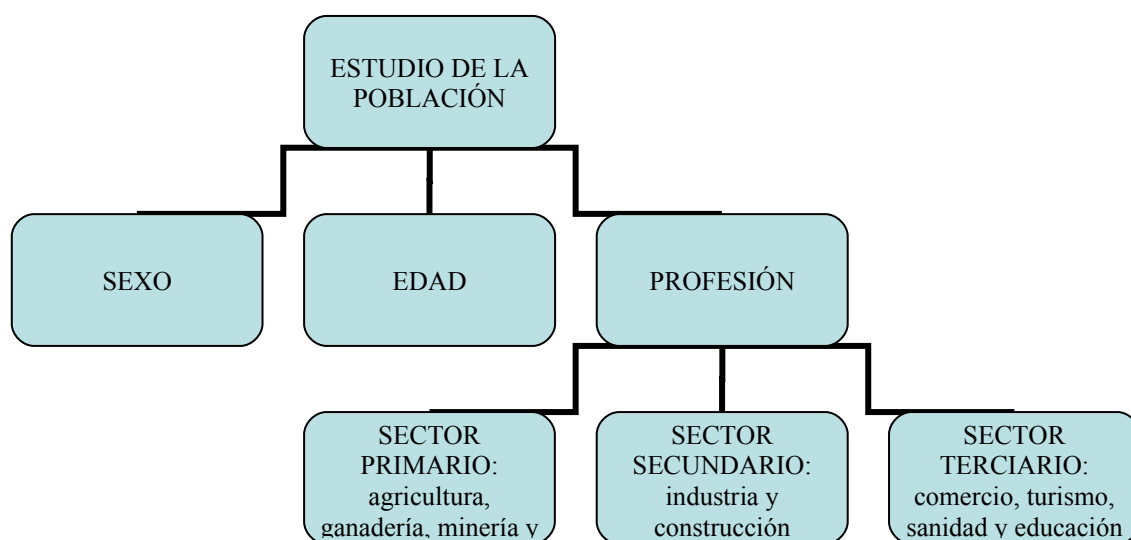


Juez



Profesora

## EL ESTUDIO DE LA POBLACIÓN



### Actividades

1. La población \_\_\_\_\_ es la que está en edad de trabajar.

2. La población \_\_\_\_\_ es aquella que, por edad o por incapacidad, no puede trabajar.

3. ¿A qué grupo de población (activa o inactiva) pertenecen los trabajadores?

---

---

4. ¿Y los jubilados en que grupo de población se incluyen?

---

---

5. ¿Qué profesión tiene tu padre?

---

¿A qué sector económico pertenece esa profesión?

---

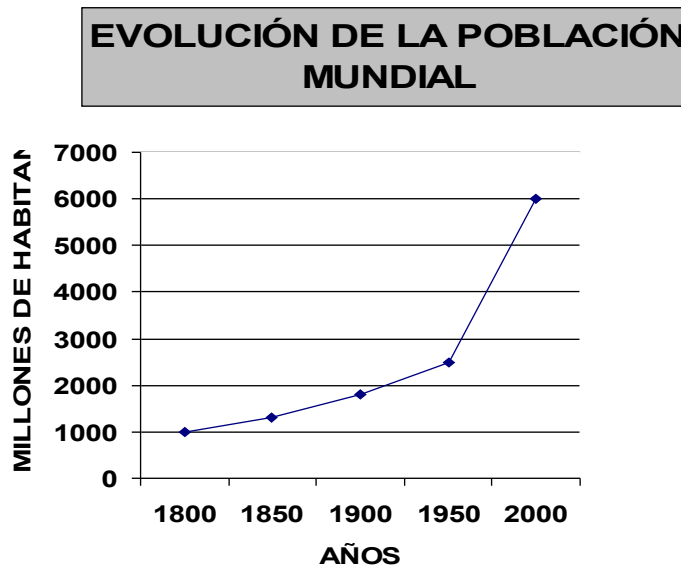
6. ¿Y un profesor en qué sector económico se incluye?

---

7. ¿Qué trabajadores forman parte del sector primario? \_\_\_\_\_

---

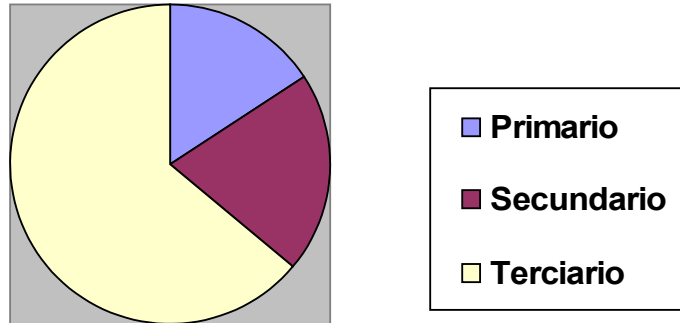
8. Observa este gráfico de población.



- Según este gráfico ¿cuántos millones de habitantes había en el mundo en el año 1900 y en el año 2000? \_\_\_\_\_
  - ¿Aumenta o disminuye la población entre el año 1900 y el año 2000? \_\_\_\_\_
- 

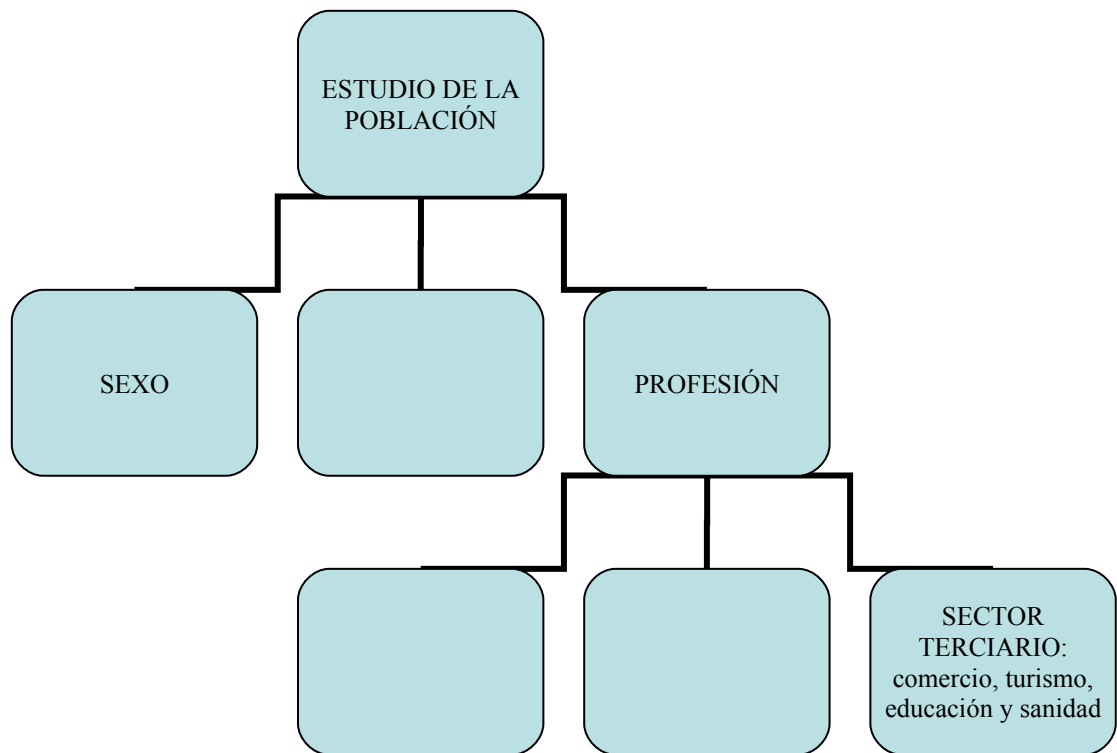
9. Observa ahora este sector circular de la población activa de Granada en el año 2002.

**Sectores económicos de Granada  
en el 2002 (miles de habitantes)**



- ♦ ¿De qué color se representa en el gráfico el sector secundario? \_\_\_\_\_  
\_\_\_\_\_
- ♦ ¿Qué sector es el más grande? \_\_\_\_\_  
\_\_\_\_\_
- ♦ ¿En qué sector hay más trabajadores?  
\_\_\_\_\_

10. Completa el mapa conceptual del estudio de la población.



## Repaso del vocabulario

### Población:



---

---

---

---

**Natalidad:**

---

---

---

**Mortalidad:**

---

---

---

**Esperanza de vida:**

---

---

---

**Población activa:**

---

---

---

**Población inactiva:**

---

---

---

**Sector primario:**

---

---

---

**Sector secundario:**

---

---

---

**Sector terciario:**

---

---

---

**PRUEBA ESCRITA DE LA UNIDAD 4**

Nombre del alumno:

Fecha:

**1. La población** es el \_\_\_\_\_ que viven en un lugar.

**2. La natalidad** es el número de \_\_\_\_\_ que nacen en un lugar.

**3. La mortalidad** es el número de \_\_\_\_\_ que mueren en un lugar.

**4. Las migraciones** son los \_\_\_\_\_ de las personas de unos \_\_\_\_\_ a otros.

**5. Población activa:** es la que está en

\_\_\_\_\_

**6. La población** \_\_\_\_\_ es aquella que, por edad o por incapacidad, no puede trabajar.

**7. ¿Qué trabajadores** forman parte del sector primario?

\_\_\_\_\_

\_\_\_\_\_

**8. En los países ricos** nacen \_\_\_\_\_ niños.

**9. Las mujeres no trabajan en los países**

---

**10. ¿Los niños de los países pobres van al colegio?**

---